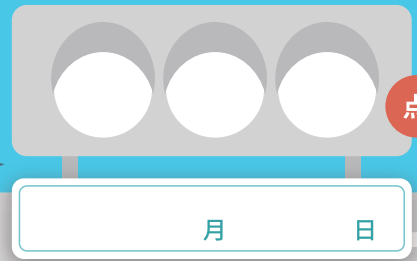




わりざん (1)



12 台のミニカーを 3 人で同じ数ずつ分けると、1 人分は何台ですか。

文中の にあてはまる言葉を書きましょう。(各 10 点)

12 台のミニカーを 3 人で同じ数ずつ分けると、1 人分は  台になります。

これを式にすると  と書き

「12 わる 3 は 4」と読みます。



次の問題の式と答えをもとめましょう。(式・答え各 10 点)

① 10 この荷物を 5 人で同じ数ずつはこぶとき、1 人がはこぶ荷物の数は何個ですか。

式

答え

② 36 人のお客さんが 2 台のバスに同じ人数ずつ乗るとき、1 台のバスにのるお客さんの人数は何人ですか。

式

答え

③ 24 本のタイヤを 6 台の小型トラック「エルフ」に同じ数ずつ配るとき、1 台のタイヤの数は何本ですか。

式

答え

④ 40 本のタイヤを 5 台のトラック「ギガ」に同じ数ずつ配るとき、1 台のタイヤの数は何本ですか。

式

答え

