



かさのたんい



かさは、りょうをさします。

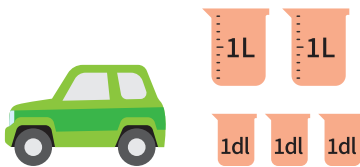
月 日



かさはそれぞれ何L何dlですか。

(各 25 点)

① 車を走らせるためのガソリンがあります。ガソリンのかさは何L何dlですか。




1Lの入れものが こ

1dlの入れものが こ

あわせて L dl です

② トラックを走らせるためのけいゆがあります。けいゆのかさは何L何dlですか。




1Lの入れものが こ

1dlの入れものが こ

あわせて L dl です

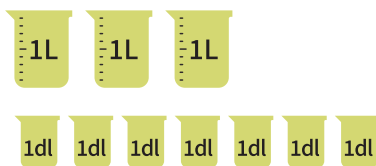
③ バスを走らせるためのけいゆがあります。それぞれ、けいゆのかさは何L何dlですか。

③-①



L dl です

③-②



L dl です

