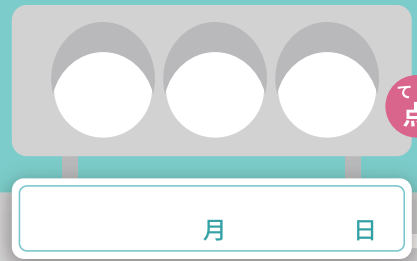




かさのたんい



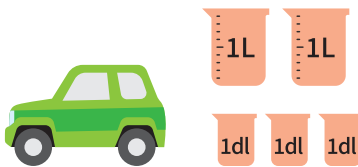
かさは、りょうをさします。



かさはそれぞれ何L 何dl ですか。

(各 25 点)

① 車を走らせるためのガソリンがあります。ガソリンのかさは何L 何dl ですか。




1L の入れものが こ

1dl の入れものが こ

あわせて L dl です

② トラックを走らせるためのけいゆがあります。けいゆのかさは何L 何dl ですか。



1L の入れものが こ

1dl の入れものが こ

あわせて L dl です

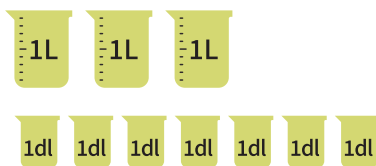
③ バスを走らせるためのけいゆがあります。それぞれ、けいゆのかさは何L 何dl ですか。

③-①



L dl です

③-②



L dl です

